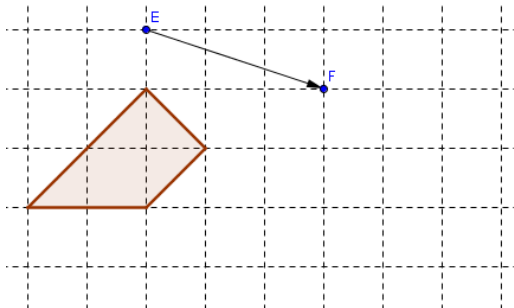


Exercices vecteurs

Exercice 1

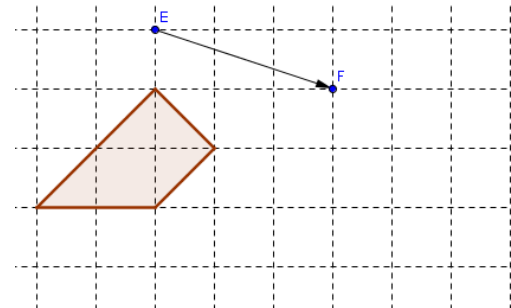
Réaliser l'image du quadrilatère ci – dessous par la translation de vecteur \overrightarrow{EF} (on s'aidera des carreaux).



Exercices vecteurs

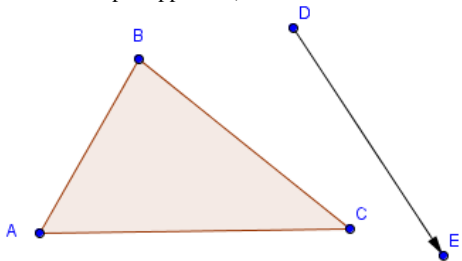
Exercice 1

Réaliser l'image du quadrilatère ci – dessous par la translation de vecteur \overrightarrow{EF} (on s'aidera des carreaux).



Exercice 2

Réaliser l'image du triangle ci – dessous par la translation de vecteur \overrightarrow{DE} (on laissera les traits de compas apparents).



Exercice 2

Réaliser l'image du triangle ci – dessous par la translation de vecteur \overrightarrow{DE} (on laissera les traits de compas apparents).

